

موقع عيون البصائر التعليمي

السنة الدراسية /

امتحان الفصل الثاني في الرياضيات

مدرسة / إبراهيم تومي الابتدائية

المستوى / الثانية ابتدائي

سيدي موسى الجزائر شرق

1. التمرين الأول: (2.5 ن) أكمل بالعدد المناسب أو بأحد الرموز < . = . > :

2سا = دقيقة ساعة ونصف = دقيقة

يومان = ساعة 361 . 337 189 . 951

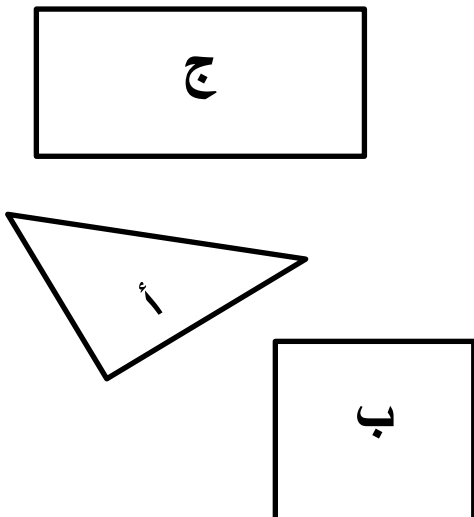
2. التمرين الثاني: (1.5 ن) أكتب هذه العمليات عموديا ثم أنجزها:

$$136 + 277 =$$

$$849 - 416 =$$

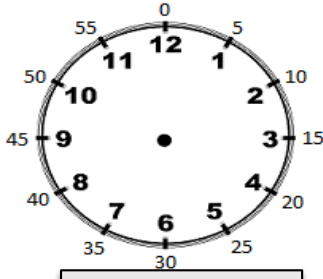
$$45 + 63 =$$

3. التمرين الثالث: (2 ن) : شاهد هذه المضلعات واملأ الجدول أدناه:

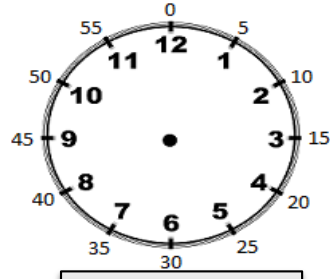


الشكل	عدد الزوايا القائمة	اسمه
أ		
ب		
ج		

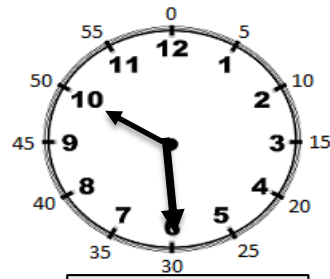
4. التمرين الرابع: أكتب الساعة بالأرقام ثم ارسم العقارب (1 ن)



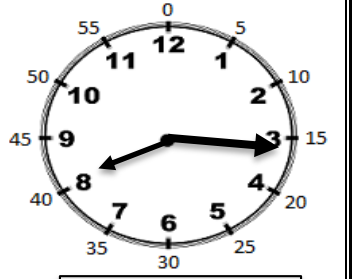
02 : 40



17 :30



:



:

صباحا

5. مسألة: (3 ن)



يَمْلِكُ تَمِيمٌ فِي حَصَالَتِهِ هَذَا الْمَبْلَغَ الْمُمَثَّلَ بِالصُّورِ.

(1) كَمْ يَمْلِكُ تَمِيمٌ؟

(2) إِشْتَرَى تَمِيمٌ مُصْحَفًا بِ 200 دَج، كَمْ بَقِيَ مَعَهُ؟

(3) أَرَادَ تَمِيمٌ أَنْ يَشْتَرِيَ مِصْحَفًا آخَرَ أَكْبَرَ مِنَ الْأَوَّلِ لِجَدَّتِهِ ثَمَّنُهُ 300 دَج هَلْ يُمَكِّنُهُ ذَلِكَ؟ اِشْرَحْ ذَلِكَ بِإِخْتِصَارٍ.

الأجوبة

الحل

العمليات

.....

- بقي مع تميم مبلغ: دج

.....

- لأن

.....

الاسم واللقب المعلم: محمد سالم